

PONOVIMO, KAR ŽE ZNAMO PRI PRIMERJAVI ŠTEVIL PO VELIKOSTI.



$$4 > 3$$

4 ENICE JE VEČ KOT 3 ENICE

KAJ PA, ČE IMA ENO ŠTEVILO POLEG ENIC ŠE DESETICO ?



$$4 < 13$$

4 JE MANJŠE KOT 13.

ČE IMA ENO ŠTEVILO DESETICO, JE
VSEKAKOR VEČJE OD DRUGEGA, KI

IMA LE ENICE, KER IMA ZRAVEN ENIC ŠE 10 ČLANOV.




$$14 > 13$$


14 JE VEČ KOT 13.


PRI DVEH ŠTEVILIH, KI IMATA OBA
DESETICO, JE VEČJE TISTO ŠTEVILO, KI IMA VEČ ENIC.

ZAPIS V KARO ZVEZEK:

VAJA


 $2 < 4$


 $12 > 4$


 $13 < 15$

10	14	8	11
12	2	13	13
7	15	11	1