

1	2	3	4	5	6	7	8	9	10

ZA REŠEVANJE IMAŠ NA VOLJO 45 MINUT. ODGOVORE ZAPIŠI V GORNJO PREGLEDNICO. ZA VSAK PRAVILEN ODGOVOR DOBIŠ 4 TOČKE. ZA VSAK NEPRAVILEN ODGOVOR TI ODŠTEJEMO 1 TOČKO. ČE PA PUSTIŠ POLJE V PREGLEDNICI PRAZNO, DOBIŠ 0 TOČK.

I. PIKA JE FOTOGRAFIRALA CVET S 5 ČEBELAMI (GLEJ-SLIKO).



POTEM KO STA 2 ČEBELI ODLETALI, 3 ČEBELE PA PRILETELE, JE CVET S ČEBELAMI FOTOGRAFIRALA ŠE NIKA. KATERA SLIKA JE NIKINA?



(A)



(B)



(C)

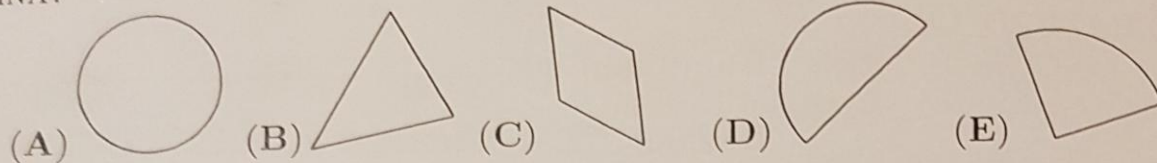


(D)

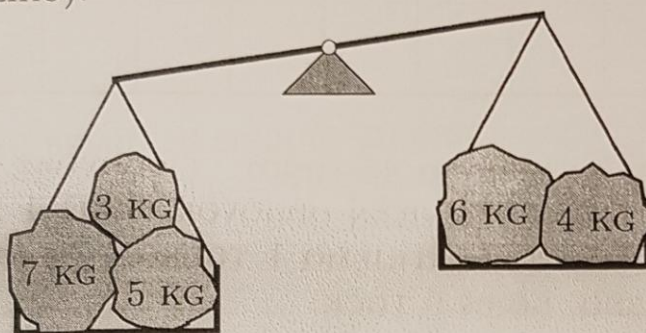


(E)

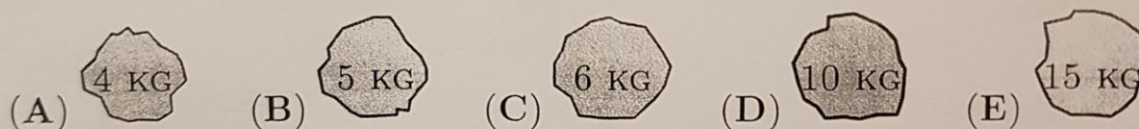
2. SARA JE NARISALA 2 RAVNI IN 1 KRIVO ČRTO. KATERA SLIKA JE SARINA?




3. KAMNOSEK JANEZ BI RAD URAVNOTEŽIL TEHTNICO, NA KATERI JE NEKAJ KAMNOV (GLEJ SLIKO).



KATERI KAMEN MORA DODATI NA DESNO STRAN TEHTNICE, DA BODO 3 KAMNI NA LEVI STRANI TEHTNICE SKUPAJ TEHTALI ENAKO KOT 3 KAMNI NA DESNI STRANI TEHTNICE?




4. TINE IMA 12 ŽOGIC (GLEJ SLIKO).



ŽOGICE BO RAZPOREDIL V ŠKATLE. V VSAKO ŠKATLO BO DAL 3 ŽOGICE. KOLIKO ŠKATEL POTREBUJE TINE?

- (A) 3 (B) 4 (C) 5 (D) 6 (E) 12

9. TINE JE IMEL 10 BELIH, 10 SIVIH IN 10 ČRNIH KOCK (GLEJ SLIKO).






ANDREJU JE DAL 6 BELIH IN 5 ČRNIH KOCK, AJDI PA 5 SIVIH IN 4 BELE KOCKE. KOCK KATERE BARVE TINE NIMA VEČ?

- (A) BELE                                      (B) SIVE                                      (C) ČRNE  
(D) SIVE IN ČRNE  
(E) BELE IN SIVE

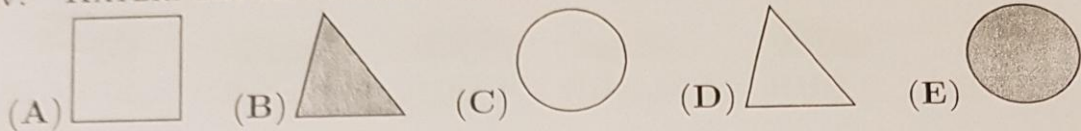
10. ALJA JE NA MIZO POSTAVILA 3 PLADNJE (GLEJ SLIKO).



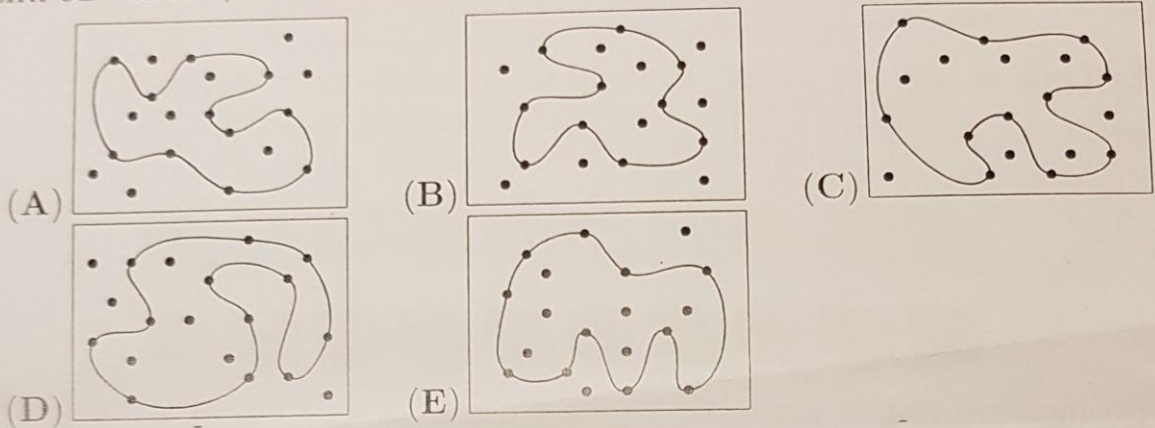
S KATEREGA KROŽNIKA LAHKO ALJA VSA JABOLKA PRESTAVI NA TE 3 PLADNJE, TAKO DA BO NA VSEH 3 PLADNJIH ENAKO ŠTEVILO JABOLK?



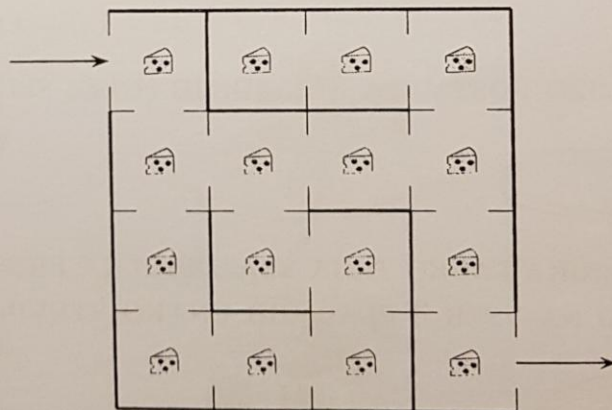
5. MAŠA JE OPISALA ENEGA IZMED SPODNJIH LIKOV: "NI TRIKOTNIK. JE SIV." KATERI LIK JE OPISALA MAŠA?



6. MATEJA JE NA 5 VRVIC NANIZALA NEKAJ ČRNIH BISEROV. NA KATERI SLIKI JE VRVICA, NA KATERI JE NAJVEČ BISEROV?







7. MIŠKA MIŠONKA BI RADA NA POTI SKOZI LABIRINT POBRALA ČIM VEČ KOŠČKOV SIRA (GLEJ SLIKO).



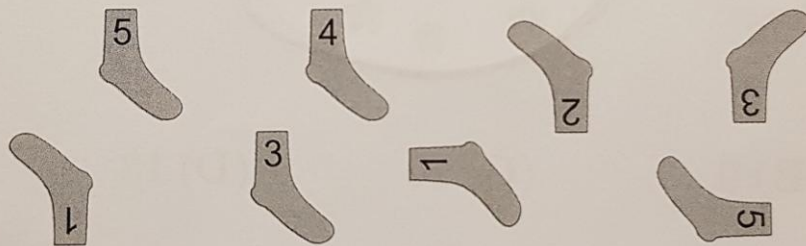
NA NOBEN KVADRAT LABIRINTA NE SME STOPITI DVAKRAT. NAJVEČ KOLIKO KOŠČKOV SIRA LAHKO POBERE MIŠKA MIŠONKA?

- (A) 7      (B) 11      (C) 13      (D) 14      (E) 16

1. V KATEREM OBLAKU SO SAMO ŠTEVILA, MANJŠA OD 7?



2. BABICA JE JURETU OZNAČILA NOGAVICE S ŠTEVILKAMI (GLEJ SLIKO). KOLIKO PAROV NOGAVIC LAHKO SESTAVI JURE, ČE MORATA IMETI NOGAVICI V PARU ENAKO ŠTEVILKO?



(A) 2

(B) 3

(C) 4

(D) 6

(E) 8

4. POBARVAJ CVETLICO, KI IMA NAJVEČ LISTOV



(A)


(B)

(C)


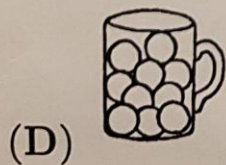
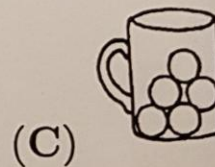
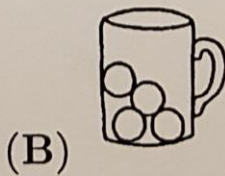

(D)

(E)

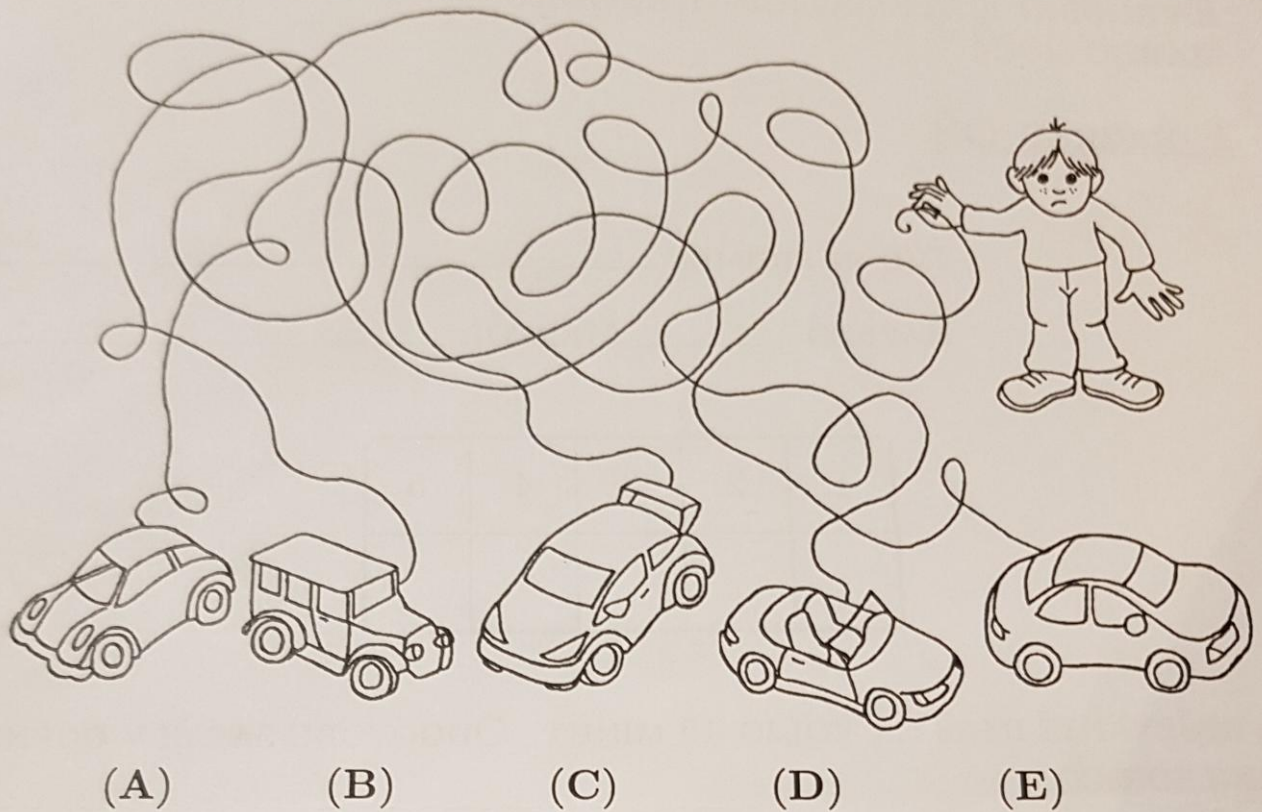
5. IDA IMA JABOLKA IN BANANE.




POBARVAJ LONČEK, V KATEREM JE FRNIKOL VEČ, KOT IMA IDA BANAN,  
IN MANJ, KOT IMA JABOLK.



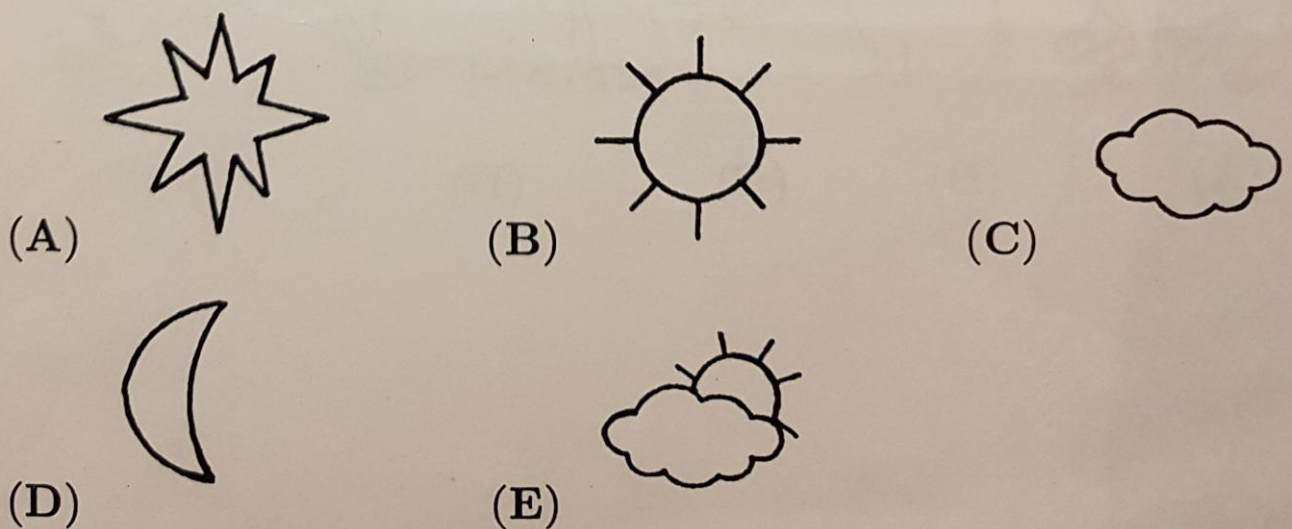
2. POBARVAJ TINETOV AVTO.




3. ŽAN JE RISAL VZOREC.





POBARVAJ FIGURO, S KATERO BI MORAL NADALJEVATI VZOREC.



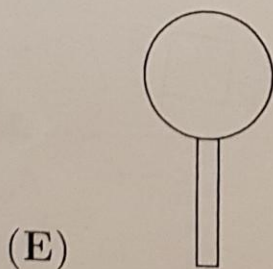


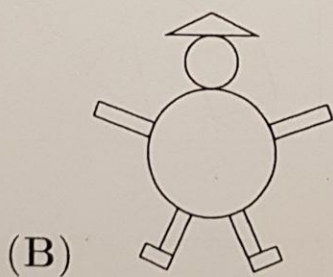
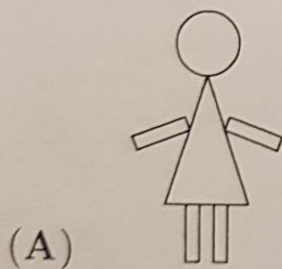
2. GAŠPER IMA VEČ BANAN KOT BRESKEV (GLEJ SLIKO).



S KATEREGA KROŽNIKA NAJ VZAME VSE BRESKVE, DA JIH BO IMEL TOLIKO KOT BANAN?




3. NA KATERI SLIKI NI KROGA?






1. VID BI RAD ZAPOLNIL LUKNJO V SESTAVLJANKI (GLEJ SLIKO).  
KATERI KOS MORA VID VSTAVITI V LUKNJO?



2. V RAČUNALNIŠKI IGRICI SO 3 LETEČE PUŠČICE IN 9 PRITRJENIH BALONOV  
(GLEJ SLIKO).



KO PUŠČICA ZADENE BALON, BALON POČI IN PUŠČICA LETI DALJE V ISTI  
SMERI. KOLIKO BALONOV BODO ZADELE VSE 3 LETEČE PUŠČICE SKUPAJ?

- (A) 2      (B) 3      (C) 4      (D) 5      (E) 6

5. PETRA JE KROGE NA LISTU PAPIRJA POBARVALA S TEMNO BARVO (GLEJ SLIKO). NATO JE PETER KROGE PREBARVAL S SVETLO BARVO, PREOSTANEK LISTA PA S TEMNO BARVO. KATERA SLIKA JE PETROVA?



- (A) (B) (C) (D) (E)

6. V IZLOŽBI TRGOVINE ČIRAČARA SO 4 IGRAČE S CENAMI (GLEJ SLIKO). HANA BO KUPILA 2 RAZLIČNI IGRAČI IZ IZLOŽBE.



5 EUR



2 EUR



7 EUR




1 EUR

NAJVEČ KOLIKO EVROV BO PORABILA?

- (A) 3 (B) 7 (C) 10 (D) 12 (E) 14

7. META JE IZ PAPIRJA IZREZALA NEKAJ ENAKIH ZVEZD S 4 KRAKI (GLEJ LEVO SLIKO) IN JIH NATO VSE ZLEPILA SKUPAJ (GLEJ DESNO SLIKO).



NAJMANJ KOLIKO ZVEZD JE META IZREZALA IN ZLEPILA SKUPAJ?

- (A) 5 (B) 6 (C) 7 (D) 8 (E) 9